



Kirjalikul arvutamisel märgin
ühelised üheliste alla ja kümnelised kümneliste alla.

	6	1
+		5
	6	6

	1	
	3	6
+		4
	4	0


	7	8
-		4
	7	4

	.	
	4	0
-		6
	3	4

50. Arvuta kirjalikult. Vastused leiad seente pealt.

	5	4				7	1				3	5				6	0
+		3			+		8			+		3			+		2

		6				4				8				3			
+	2	3			+	6	6			+	5	1		+	4	6	



Üle jäid arvud ja

51. Arvuta kirjalikult vihikus.

$63 + 7$

$80 + 3$

$9 + 41$

$2 + 58$

$42 + 6$

$28 + 1$

$7 + 83$

$1 + 86$

52. Lahenda ülesanne.

Vanaema keetis 21 purki maasika-moosi.

Marineeritud kurke tegi memm 7 purki rohkem.

Mitmesse purki pani vanaema marineeritud kurgid?

Andmed:



.....

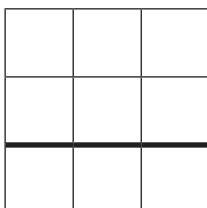


..... võrra rohkem

Mitu ?

Lahendus:

Mitu ?



Vastus: Vanaema marineeris purki kurke.

Kõik kurgi-purgid olid ühe-liitrised.


Mitu liitrit marineeritud kurke tegi memm?

53. Arvuta kirjalikult.

	6	5				8	8				4	7				5	8	
-		2				-		6			-		7			-		3

	3	6				7	9				3	8				6	7	
-		2				-		9			-		1			-		6

Reasta vastused alustades väikseimast.




54. Koosta avaldised. Arvuta kirjalikult vihikus.



		+			=		
--	--	---	--	--	---	--	--



		+			=		
--	--	---	--	--	---	--	--



		-			=		
--	--	---	--	--	---	--	--



		-			=		
--	--	---	--	--	---	--	--

55. Lahenda ülesanne.

Triin teenis suvel maasikaid korjates 57 eurot.

Tema venna Trevori teenistus oli 6 eurot väiksem.

Kui palju teenis marja-korjamisega Trevor?

Andmed:



.....



..... võrra vähem

Mitu ?

Lahendus:

Mitu ?

			€
			€
			€

Vastus: Trevor teenis suvel töötades eurot.

Missuguste raha-tähtedega saad kokku



palga?



palga?

56. Arvuta kirjalikult vihikus.

$52 + 6$

$4 + 75$

$65 - 2$

$77 - 7$

$67 + 3$

$8 + 22$

$80 - 6$

$93 - 2$

$41 + 9$

$3 + 92$

$54 - 4$

$86 - 5$

$33 + 5$

$9 + 60$

$49 - 3$

$34 - 4$

$86 + 3$

$1 + 30$

$75 - 5$


$69 - 8$

57. Lahenda ülesanne.

Kalurid püüdsid esmaspäeval 73 lesta-kala.

Teisipäeval püüdsid nad 7 kala rohkem.

Mitu lesta-kala püüdsid kalurid teisipäeval?



58. Lahenda ülesanne.

Toomas sai sünnipäevaks 30 värviga vildikate komplekti.

Tema väike õde Taisi kaotas 4 vilt-pliiatsit ära.

Mitu vildikat jäi Toomasel tervest komplektist alles?

59. Kontrolli, kas Märt lahendas kodused ülesanded õigesti.

Paranda vead.

4	6	+		4	=	5	0				5	6	-		5	=		6	
8	5	+		3	=	8	9				8	3	-		3	=	8	0	
	7	+	2	2	=	9	9				3	7	-		4	=	3	4	