



	4	2
+	3	5
	8	7

	1	
	6	1
+	2	9
	9	0

	9	8
-	5	4
	4	4

## 64. Arvuta kirjalikult.

	6	2				3	8				4	0				7	2
+	2	7			+	5	1			+	5	4			+	2	0


	6	9				8	5				9	3				5	7
-	1	9			-	3	4			-	6	1			-	3	0

	5	5				7	9				2	7				8	4
+	3	5			-	3	9			+	4	3			-	4	1

	6	8				5	9				7	7				9	4
-	6	1			-	1	7			-	7	3			-	6	3

**65. Kirjuta piltide juurde loomade nimetused.  
Lahenda ülesanded.**



10 kg kergem

20 kg kergem

32 kg

20 kg raskem



			kg
			kg
			kg

			kg
			kg
			kg

			kg
			kg
			kg

*Mitu kiskjat on pildil?*

*Kui palju nad kokku kaaluvad?*

			kg
			kg
			kg
			kg

**66. Arvuta kirjalikult vihikus.**

$42 + 36$

$24 + 55$

$95 - 20$

$67 - 27$

$82 + 18$

$50 + 35$

$76 - 73$

$98 - 23$

$47 + 23$

$76 + 20$

$88 - 48$

$63 - 62$

$80 + 14$

$64 + 21$

$99 - 49$

$43 - 21$

$75 + 15$

$49 + 30$

$84 - 62$

$57 - 40$

## 67. Lahenda ülesanne.

Kaksikud Trevor ja Roger teenisid suvel laagris tööd tehes endale kooliajaks taskuraha.

Trevor teenis 32 eurot.

Roger teenis kaksik-vennast 11 eurot rohkem.

Kui suur oli kaksikute suvine teenistus kokku?



Andmed:

Trevor 

--	--

 € ← 

--	--

Roger 

--	--

 € 

--	--

---

Kaksikud kokku ?

Lahendus:

1. Kui palju taskuraha teenis Roger?

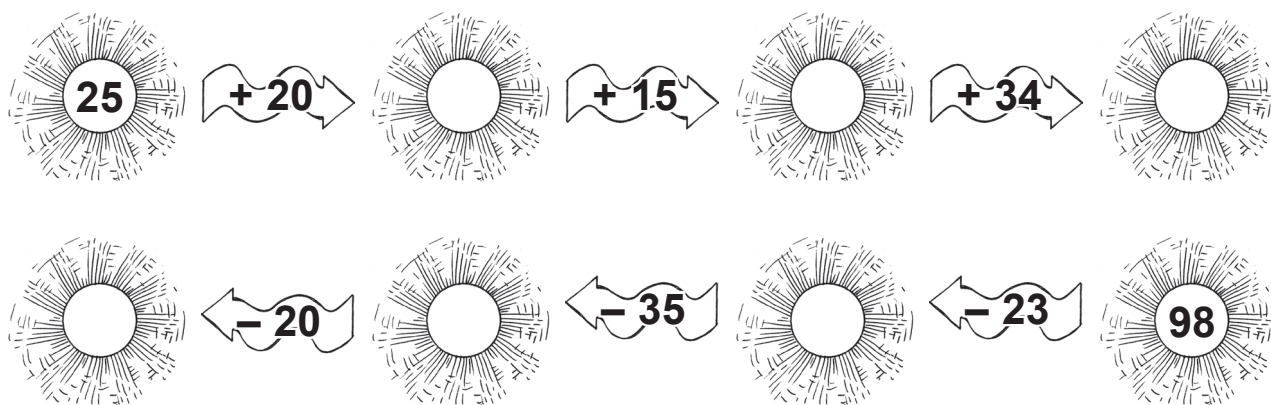
			€
			€
			€

2. Kui suur oli kaksikute suvine teenistus kokku?


			€
			€
			€

Vastus: .....

## 68. Arvuta.



Reasta päikeste peal olevad arvud alates suurimast.



## 69. Arvuta.

