


6.2. Osa märkimine murd-arvuga

142. Mitmeks võrdseks osaks on kujund jaotatud?
Värvi kujundist üks osa.



Kujund ehk terve on jaotatud kaheks võrdseks osaks.

Värvitud osa on $\frac{1}{2}$ (üks kahendik) ehk **pool** kujundist.



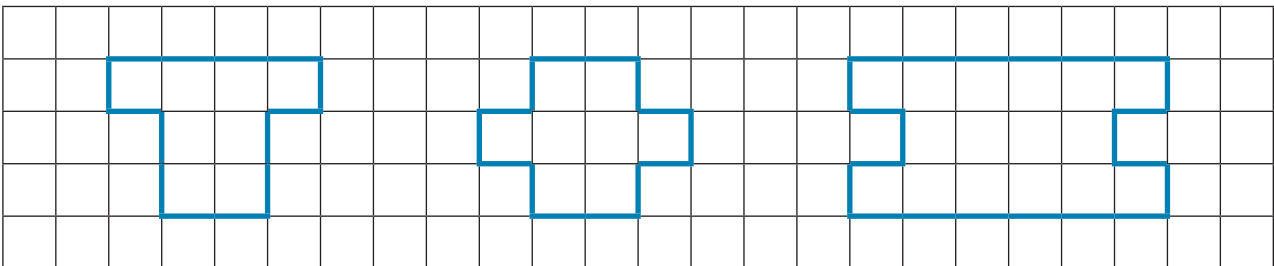
$\frac{1}{2}$ on murd-arv

$\frac{1}{2}$

Ülemine arv näitab, mitu võrdset osa on tervest võetud.


Alumine arv näitab, mitmeks võrdseks osaks on terve jaotatud.


143. Jaota kujundid joone abil kaheks võrdseks osaks.
Värvi $\frac{1}{2}$ kujundist.



144. Jaota hulgad võrdset kaheks osaks ehk pooleks.


Värvi $\frac{1}{2}$ hulgast.

	<p>..... : 2 =</p> <p>$\frac{1}{2}$ arvust on</p>
---	--

	<p>..... : 2 =</p> <p>$\frac{1}{2}$ arvust on</p>
---	--

145. Lahenda ülesanne.

Jaga õhu-pallid Marise ja Marko vahel võrdset.

	<p>..... : 2 =</p> <p>$\frac{1}{2}$ arvust on</p>
---	--

Värvi Marise õhu-pallid kollaseks.