

5.2. INIMESE VÄLIS-EHITUS II

KÄED JA JALAD

- Sul on 4 jäset. Osuta neile.

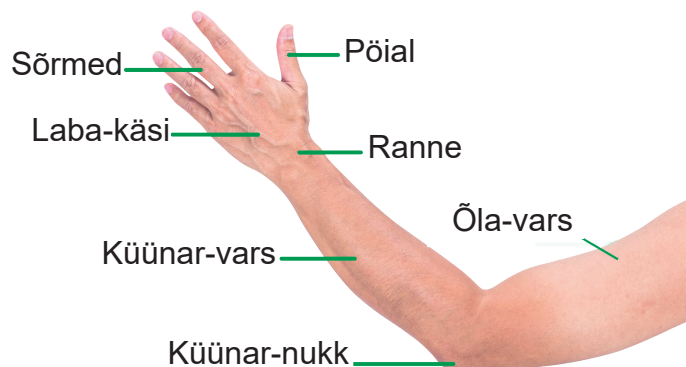
Inimese **jäsemed** on tema **käed** ja **jalad**.

Käte kohta ütleme üla-jäsemed.

Jalgu nimetame ala-jäsemeteks.

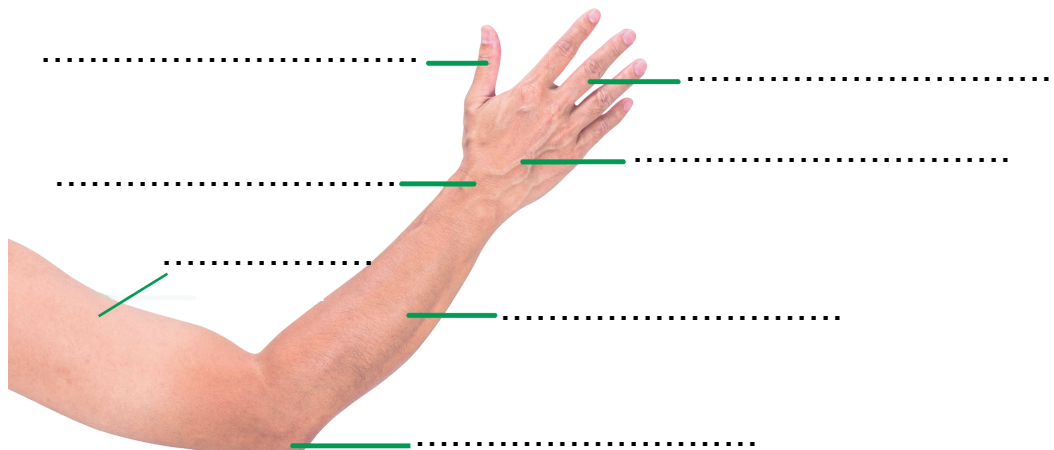
Kätel on erinevad osad.

- Vaata pilti.
- Leia käe osad oma kehalt.



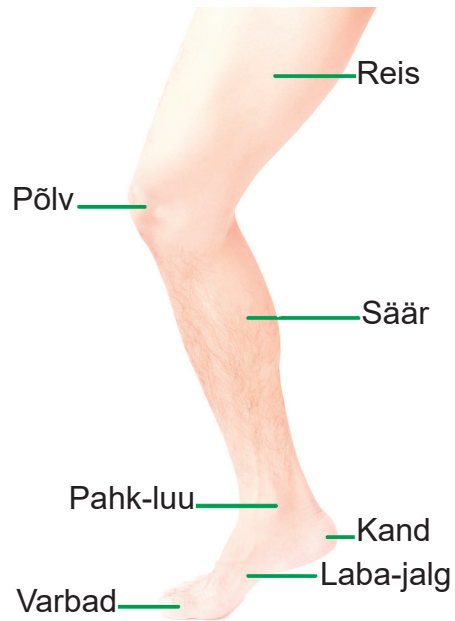
Ülesanne 1

Kirjuta joonisele käe osade nimetused.



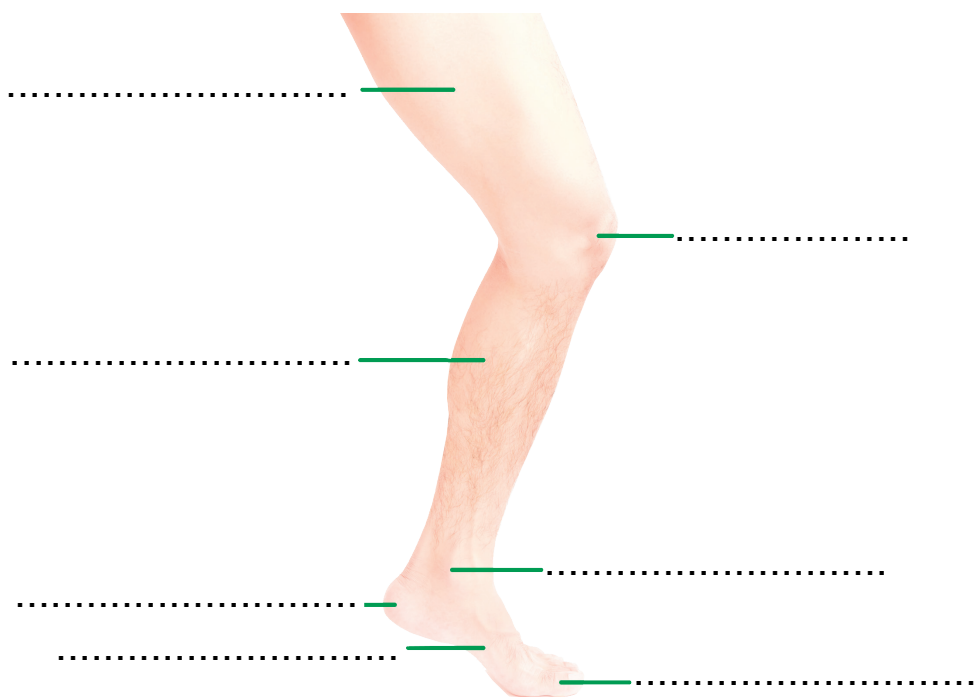
Ka jalad koosnevad erinevatest osadest.

- Vaata pilti.
- Leia jala osad oma kehalt.



Ülesanne 2

Kirjuta joonisele jala osade nimetused.



Ülesanne 3

1. Loe sõnad tabelis.
2. Mitu sellist kehaosa sul on?
3. Kirjuta tabelisse number.

KEHA-OSA NIMETUS	ARV
turi	
küünar-vars	
kand	
õla-vars	
istmik	
õlg	
kukal	
rinnak	
reis	



Pea meeles!

- Inimesed on välimuselt üks-teisest erinevad.
- Meil kõigil on ühed ja samad keha-osad.
- Inimese peamised kehaosad on pea, kael, kere ja jäsemed.
- Jäsemed on käed ja jalad.