

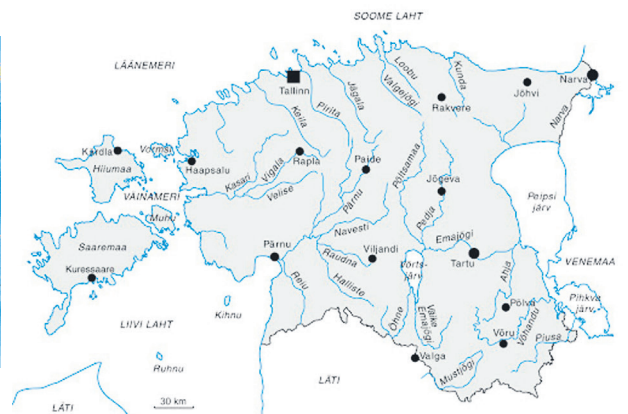
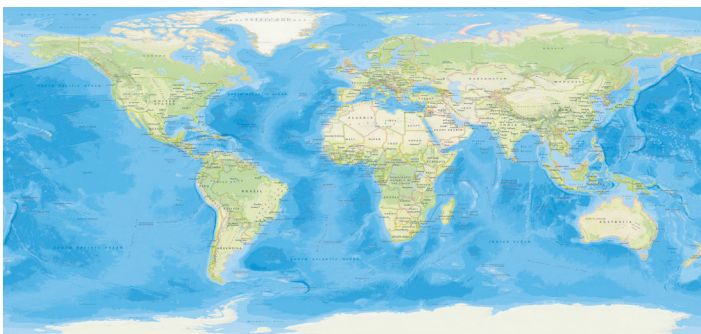
# 7. VEEKOGUD

## 7.1. VEEKOGU




Meie elame maismaal. Uuri globust või maa-kaarti. Sa märkad, et suurem osa maakerast on kujutatud **sinise värviga**. Need on vee-kogud. Enamasti on veekogud oma-vahel ühendatud.

**Veekogu** on jõgi, järv, meri ja ookean.



Maismaal on vesi kogunenud nõkku või orgu.



- Arutlege klassis.

Mille poolest org ja nõgu erinevad?

Mille poolest on orus ja nõos asuv veekogu erinev?


Kui vesi asub nõos, siis see on .....

Kui vesi asub orus, siis see on .....

### Ülesanne 1

1. Mida on pildil kujutatud?

2. Kirjuta pildi alla õige nimetus.



.....

.....

### Ülesanne 2

1. Loe tulbast veekogude nimetused.

2. Ühenda joonega.

Tiik •

Ookean •

Järv •

Jõgi •

Meri •

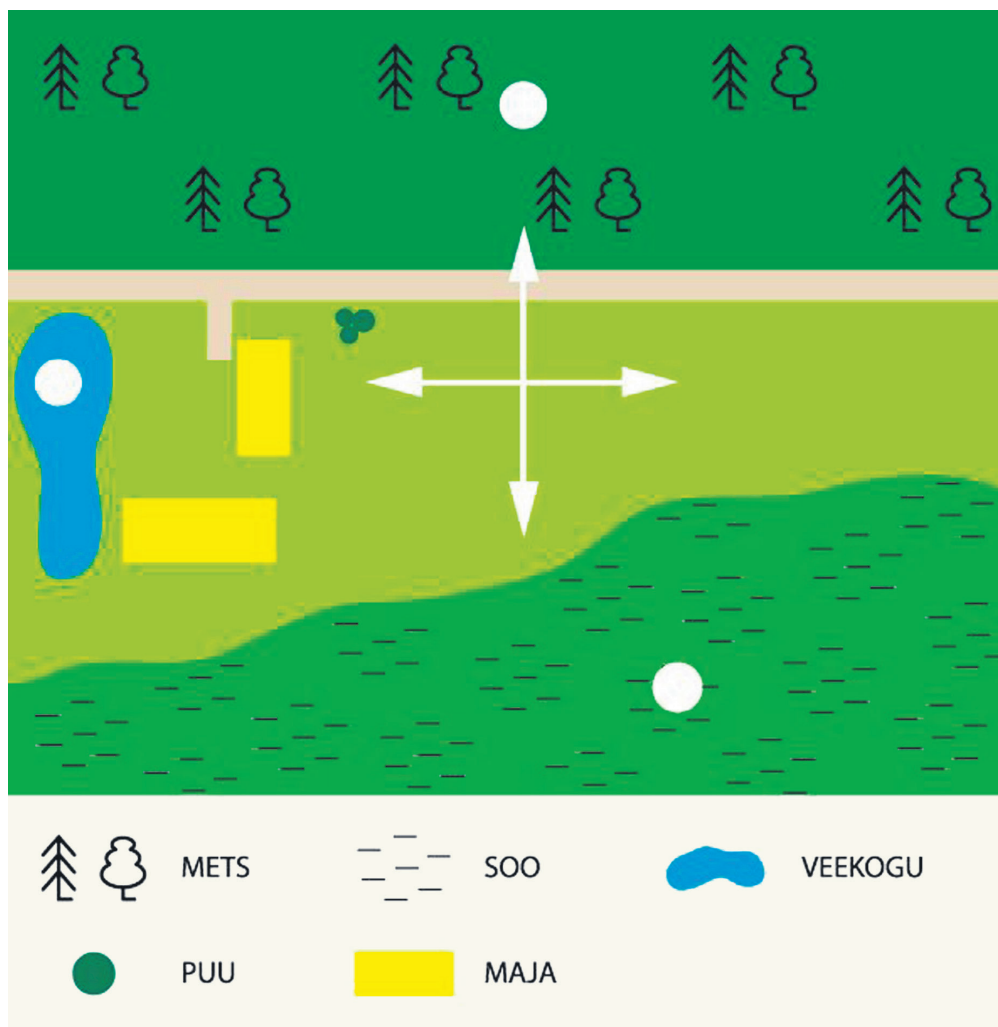
• Seisva veega veekogu

• Voolava veega veekogu

### Ülesanne 3

1. Leia plaanil veekogu.

2. Tee plaanil veekogu juurde ringi sisse X.



3. Milline veekogu on sinu kodu-kohale kõige lähemal?

Kirjuta veekogu nimi. ....

Sinu nimetatud veekogu on *allikas / jõgi / järv / meri / tiik.*