

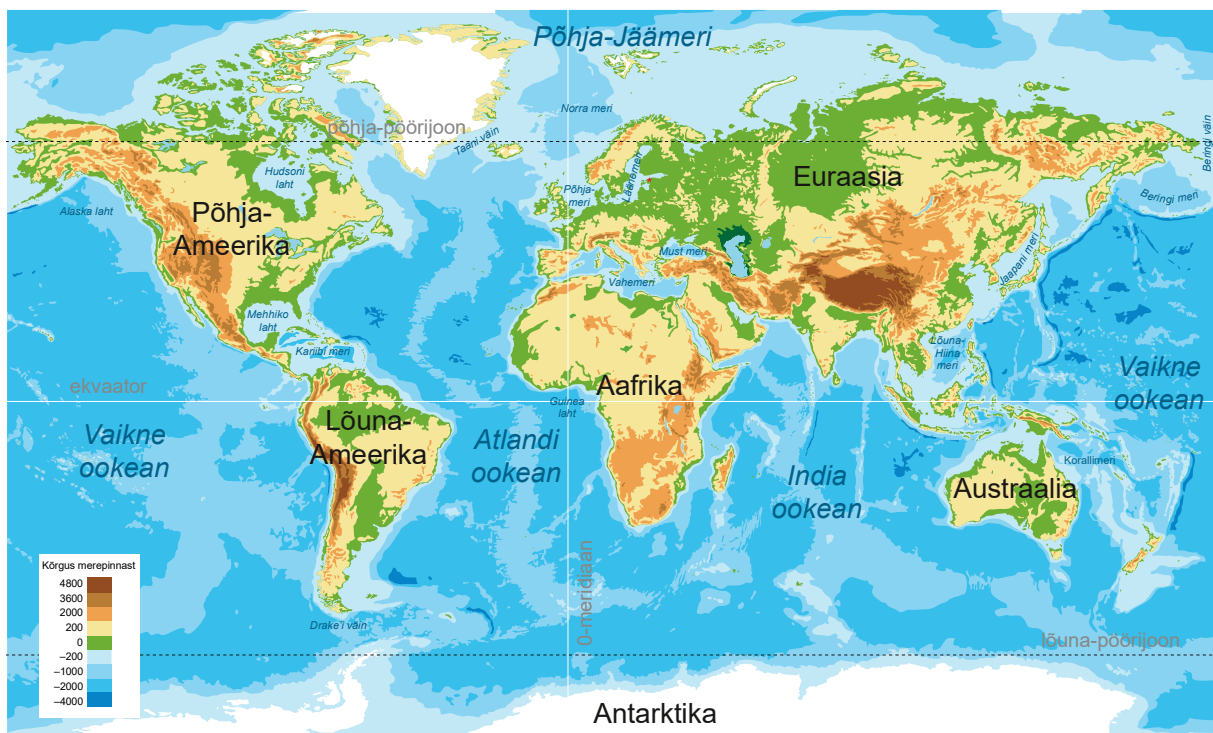
2.1. MAAILMAMERI



Maakeral on vett palju rohkem kui maismaad. Peaaegu $\frac{3}{4}$ kogu maakerast on vesi.

Veeväli ümber suurte maismaa osade on **maailmameri**.

Kõik maailmamere osad on omavahel ühendatud. Seetõttu on võimalik laevaga ümber maakera sõita.



Maailma looduskaart

Maailmamere tähtsus

Maailmameri on väga oluline.

Meres kasvavad vetikad, mis toodavad hapnikku. Hapnikku vajavad hingamiseks kõik elusolendid.

Inimene saab maailmamerest toidule lisa.

- Mereveest saadakse soola.
- Kui mereveest sool eemaldada, saadakse magedat vett. Eriti oluline on mageda vee saamine kõrbealadel, kus vett on väga vähe. Näiteks Iisraelis kasutatavast magedast veest on üks viiendik saadud mereveest.
- Maailmamerest püütakse kala. Tähtsamad püügikalad on heeringas ja tursk.



Mereannid



Tursaparv



Kalapüügilaev

- Palju püütakse ka mitmesuguseid mereloomi, näiteks krevette, krabisid, kalmaare.
- Toiduks kasutatakse ka vetikaid. Vetikatest tehakse näiteks marmelaadi.
- Meretaimed ja -loomad sisaldavad palju kasulikke aineid (omega-3-rasvhape, jood, magneesium jt). Neist toodetakse erinevaid ravimeid.

Mered on tähtsad kaubateed. Suurte merelaevadega on kaupade vedu odavam kui autode või rongidega.

Mööda mereteid sõidavad ka turismilaevad.

Mererannikud on populaarsed puhkepiirkonnad.



Maailma suurim kaubalaev Algeciras



Kruisilaeval saab puhata.



Naftapuurtorid ookeanis

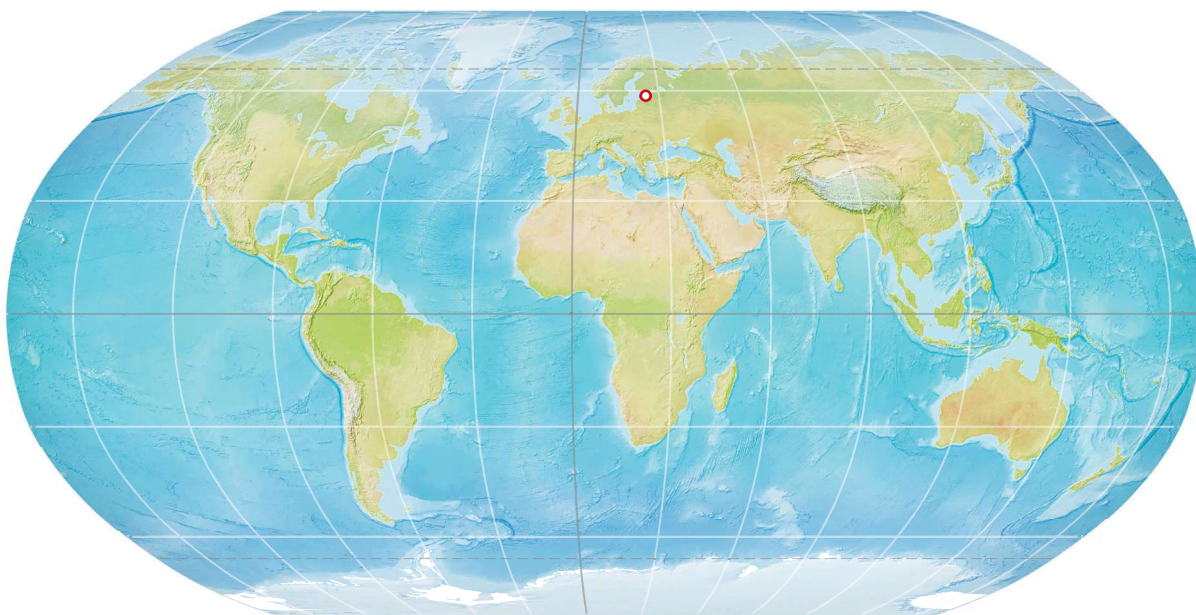
Meredes leidub mitmesuguseid maavarasid.

Nii kaevandatakse merepõhjast soola, kivisütt, naftat. Tuntumad leiukohad on Norras, Pärsia lahes jm.

ÜLESANNE 1

Vaatle gloobust ja kaarti.

- 1. Leia ekvaator, poolused, põhja-pööriloon ja lõuna-pööriloon (kaardil katkendjoonega rööbikud).**
- 2. Leia ja näita kõik ookeanid gloobuselt ja kaardilt. Märki kaardile Vaikne ookean (1), Atlandi ookean (2), India ookean (3), Põhja-Jäämeri (4). Märki kaardile ookeani nime taga sulgudes olev number.**



ÜLESANNE 2

Uuri diagrammi ookeanide suuruse kohta.

Reasta ookeanid suuruse järgi. Alusta kõige väiksemast.

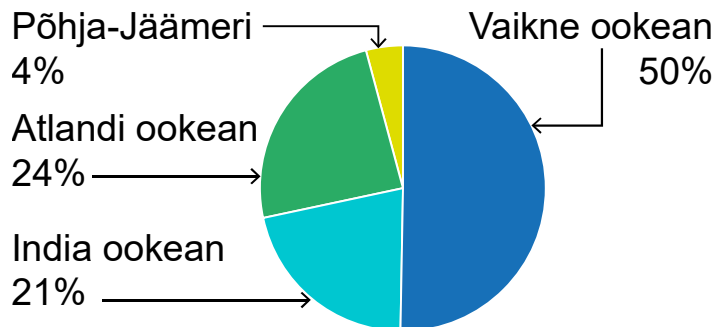
..... Atlandi ookean

..... India ookean

..... Põhja-Jäämeri

..... Vaikne ookean

Maailmamere jaotumine ookeanideks



ÜLESANNE 3

Reasta ookeanid sügavuse järgi. Alusta kõige sügavamast.

Andmed leiad maailma looduskaardilt või internetist.

1. Keskmise sügavuse järgi:

..... Atlandi ookean

..... India ookean

..... Põhja-Jäämeri

..... Vaikne ookean

2. Suurima sügavuse (kõige sügavama koha) järgi:

..... Atlandi ookean

..... India ookean

..... Põhja-Jäämeri

..... Vaikne ookean

Võrdle saadud järjestusi. Mis on sarnast? Mis erineb?