

153. A Täida õpetaja-poolsed töö-korraldused.



Mul on 15 pliiatsit.

.....,
..... ja,
palun tulge klassi ette.

Õpetaja jagab pliiatsid
laste vahel võrdselt.


Mitu pliiatsit sai iga laps?

B Vasta küsimustele.


1.	Mitu pliiatsit oli õpetajal?	
2.	Mitme õpilase vahel õpetaja pliiatsid jaotas?	
3.	Mitu pliiatsit sai iga õpilane?	
4.	Kuidas sa vastuse leidsid?	
5.	Kirjuta avaldis jagamis-märki kasutades. Arvuta.	
6.	Nimeta arv, mis on jagatavaks.	
7.	Nimeta arv, mis on jagajaks.	

Sama-moodi saab tegutseda, kui kasutada erinevaid esemeid, näiteks tamme-tõrusid.


154. Jaota võrdset.



$$30 : 5 = \dots\dots$$



$$45 : 5 = \dots\dots$$



$$20 : 5 = \dots\dots$$




$$15 : 5 = \dots\dots$$



$$35 : 5 = \dots\dots$$



$$5 : 5 = \dots\dots$$



$$40 : 5 = \dots\dots$$



$$50 : 5 = \dots\dots$$



$$25 : 5 = \dots\dots$$




$$10 : 5 = \dots\dots$$

155. Lahenda ülesanne.

Lillepoe müüja köitis 50 tulpi viie kaupa kimpu.

Mitu tulbi-kimpu müüja tegi?













156. Lahenda ülesanne.

Toni maksis 30-eurose puldi-auto eest viie-euroste raha-tähtedega. Mitu kupüüri poiss müüjale andis?



157. Arvuta.

	$5 : 5 =$
	$10 : 5 =$
	$15 : 5 =$
	$20 : 5 =$
	$25 : 5 =$
	$30 : 5 =$
	$35 : 5 =$
	$40 : 5 =$
	$45 : 5 =$
	$50 : 5 =$