

194. A Loe ja vasta küsimustele.

Korvis on 30 õuna.

Need on vaja jagada võrdseks kuude kotti.



Mitu õuna oli korvis?

.....


Mitmeks võrdseks osaks tuleb õunad jagada?

.....

Mitu õuna tuleb panna igasse kotti?

.....

B Lahenda ülesanne. Täienda vastust.




..... : =

Igasse kotti pandi õuna.

C Selgita, mis on jagamine.

Sama moodi saab tegutseda, kui kasutada erinevaid esemeid, näiteks arvutus-pulkasid.

195. Jaota võrdset.



$$12 : 6 = \dots\dots$$




$$30 : 6 = \dots\dots$$



$$18 : 6 = \dots\dots$$




$$6 : 6 = \dots\dots$$




$$24 : 6 = \dots\dots$$



$$36 : 6 = \dots\dots$$



$$54 : 6 = \dots\dots$$



$$42 : 6 = \dots\dots$$



$$60 : 6 = \dots\dots$$



$$48 : 6 = \dots\dots$$


196. Lahenda ülesanne.

Kooli raamatu-kogusse toodi 36 uut töö-
raamatute komplekti. Raamatu-kogu-hoidja
pani need võrdselt kuuetele riiulile. Mitu
komplekti töö-raamatuid pani ta igale riiulile?













197. Lahenda ülesanne.

Põllult saadi 60 kg porgandeid. Need pakiti
6-kilogrammi kaupa kottidesse. Mitu kotti
porgandeid saadi?



198. Arvuta.

	$6 : 6 =$
	$12 : 6 =$
	$18 : 6 =$
	$24 : 6 =$
	$30 : 6 =$
	$36 : 6 =$
	$42 : 6 =$
	$48 : 6 =$
	$54 : 6 =$
	$60 : 6 =$

199. Lahenda ülesanne.



4. klassi õpilased tõid näitusele 15 joonistust. 3. klassi õpilased tõid näitusele 9 kollaaži. Õpetaja jaotas kõik tööd võrdselt kuuele stendile. Mitu tööd oli igal stendil?