

## 1.5. Korrutamine ja jagamine arvuga 5

### 128. A Täida õpetaja-poolsed töö-korraldused.



Võta pinalist kaks pliatsit.

Võta pinalist veel kaks pliatsit.

Võta juurde veel kaks pliatsit.

Võta veel kord juurde kaks pliatsit.











Võta veel kord juurde kaks pliatsit.

### B Vasta küsimustele.


1.	Mitu pliatsit palus õpetaja sul korraga pinalist võtta?	
2.	Mitu korda sa võtsid pinalist pliatsid kahe-kaupa?	
3.	Mitu pliatsit sa pinalist kokku võtsid?	
4.	Kuidas sa vastuse leidsid?	
5.	Kirjuta avaldis liitmis-märki kasutades. Arvuta.	
6.	Milline arv on liidetavaks?	
7.	Mitu liidetavat on summas?	
8.	Kirjuta avaldis korrutus-märki kasutades. Arvuta.	
9.	Nimeta arvud, mis on teguriteks.	

*Sama-moodi saab tegutseda, kui kasutada erinevaid esemeid, näiteks käbisid.*

## 129. Ühenda sobivad avaldised pildiga. Arvuta.

$5 \cdot 1 =$		$4 + 4 + 4 +$ $4 + 4 =$
$5 \cdot 2 =$		$2 + 2 + 2 +$ $2 + 2 =$
$5 \cdot 3 =$		$1 + 1 + 1 +$ $1 + 1 =$
$5 \cdot 4 =$		$3 + 3 + 3 +$ $3 + 3 =$
$5 \cdot 5 =$		$5 + 5 + 5 +$ $5 + 5 =$
$5 \cdot 6 =$		$10 + 10 + 10 +$ $10 + 10 =$
$5 \cdot 7 =$		$6 + 6 + 6 +$ $6 + 6 =$
$5 \cdot 8 =$		$8 + 8 + 8 +$ $8 + 8 =$
$5 \cdot 9 =$		$7 + 7 + 7 +$ $7 + 7 =$
$5 \cdot 10 =$		$9 + 9 + 9 +$ $9 + 9 =$

### 130. Lahenda ülesanded kahel viisil.



Korrutamine					Liitmine																	
5	·	3	=				3	+	3	+	3	+	3	+	3	=						



Korrutamine					Liitmine																



Korrutamine					Liitmine																

### 131. Asenda korrutamine võrdsete liidetavate liitmisega.

$$5 \cdot 4 = 4 + 4 + 4 + 4 + 4 = \dots$$

$$5 \cdot 7 = \dots + \dots + \dots + \dots + \dots = \dots$$

$$5 \cdot 2 = \dots + \dots + \dots + \dots + \dots = \dots$$

$$5 \cdot 5 = \dots + \dots + \dots + \dots + \dots = \dots$$

$$5 \cdot 1 = \dots + \dots + \dots + \dots + \dots = \dots$$


$$5 \cdot 9 = \dots + \dots + \dots + \dots + \dots = \dots$$

$$5 \cdot 10 = \dots + \dots + \dots + \dots + \dots = \dots$$


### 132. Lahenda ülesanded kahel viisil.



Liitmine										Korrutamine					



Liitmine										Korrutamine					



Liitmine										Korrutamine					

### 133. Asenda võrdsete liidetavate liitmine korrutamisega.

$$2 + 2 + 2 + 2 + 2 = \dots \cdot \dots = \dots$$

$$6 + 6 + 6 + 6 + 6 = \dots \cdot \dots = \dots$$

$$3 + 3 + 3 + 3 + 3 = \dots \cdot \dots = \dots$$

$$7 + 7 + 7 + 7 + 7 = \dots \cdot \dots = \dots$$

$$1 + 1 + 1 + 1 + 1 = \dots \cdot \dots = \dots$$

$$10 + 10 + 10 + 10 + 10 = \dots \cdot \dots = \dots$$

$$9 + 9 + 9 + 9 + 9 = \dots \cdot \dots = \dots$$

### 134. Võrdle (<, >, =).

$5 \cdot 3 \dots 4 + 4 + 4 + 4 + 4$

$5 \cdot 2 \dots 5 + 5 + 5 + 5 + 5$

$5 \cdot 1 \dots 1 + 1 + 1 + 1 + 1$

$5 \cdot 5 \dots 7 + 7 + 7 + 7 + 7$

$5 \cdot 7 \dots 10 + 10 + 10 + 10 + 10$

$6 + 6 + 6 + 6 + 6 \dots 5 \cdot 6$




$9 + 9 + 9 + 9 + 9 \dots 5 \cdot 9$




$3 + 3 + 3 + 3 + 3 \dots 5 \cdot 4$




$2 + 2 + 2 + 2 + 2 \dots 5 \cdot 8$




$8 + 8 + 8 + 8 + 8 \dots 5 \cdot 10$

### 135. Kirjuta joonise juurde liitmis-tehe. Asenda see võimalusel korrutamistehtega.

	$4 + 4 + 4 + 4 + 4$	$5 \cdot 4$
		—
		—

### 136. Koosta ja lahenda pildi põhjal ülesandeid.

Anton Riina Ulrika


### 137. Lahenda ülesanne.

Vanaemal on viis lapselast. Memm kodus igale lapselapsele käpikud. Mitu kinnast pidi vanaema kuduma?



### 138. Lahenda ülesanne.

Paar sukk-pükse maksab 5 eurot. Ema ostis Triinule triibulised, täpilised ja punased sukk-püksid. Kui palju kulus emal ostule raha?



### 139. Lahenda ülesanne.

Akvaariumis on viis kuldkala. Gupisid on viis korda rohkem. Mitu gupit ujub akvaariumis? Mitu kala on akvaariumis kokku?

