

78. A Täida õpetaja-poolsed töö-korraldused.



Mul on üheksa pliiatsit.

....., ja
....., palun tulge klassi ette.

Õpetaja jagab pliiatsid
laste vahel võrdselt.

Mitu pliiatsit sai iga laps?

B Vasta küsimustele.

1.	Mitu pliiatsit oli õpetajal?	
2.	Mitme õpilase vahel õpetaja pliiatsid jaotas?	
3.	Mitu pliiatsit sai iga õpilane?	
4.	Kuidas sa vastuse leidsid?	
5.	Kirjuta avaldis jagamis-märki kasutades. Arvuta.	
6.	Nimeta arv, mis on jagatavaks.	
7.	Nimeta arv, mis on jagajaks.	

Sama-moodi saab tegutseda, kui kasutada erinevaid esemeid, näiteks käbisid.

79. Jaota võrdset.




$$21 : 3 = \dots\dots$$



$$27 : 3 = \dots\dots$$



$$30 : 3 = \dots\dots$$




$$3 : 3 = \dots\dots$$



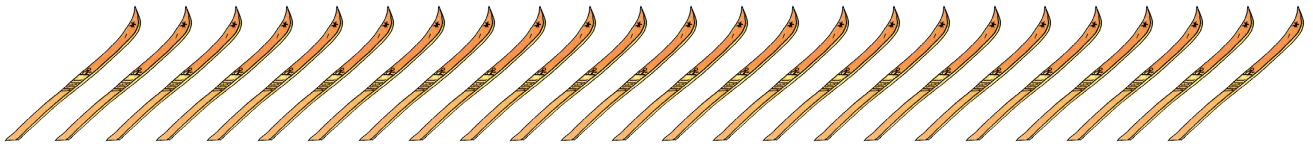
$$18 : 3 = \dots\dots$$



$$6 : 3 = \dots\dots$$



$$15 : 3 = \dots\dots$$



$$24 : 3 = \dots\dots$$



$$12 : 3 = \dots\dots$$



$$9 : 3 = \dots\dots$$


80. Lahenda ülesanne.

Kaheksateist palli jaotati kolme võrgu vahel.
Mitu palli pandi igasse võrku?













81. Lahenda ülesanne.

Isa ostis poest 12 banaani. Ta jagas need võrdselt
oma kolme poja vahel. Mitu banaani sai iga poiss?



82. Arvuta.

	$3 : 3 =$
	$6 : 3 =$
	$9 : 3 =$
	$12 : 3 =$
	$15 : 3 =$
	$18 : 3 =$
	$21 : 3 =$
	$24 : 3 =$
	$27 : 3 =$
	$30 : 3 =$

83. Lahenda ülesanne.

Trevoril oli 30 eurot. Üks kast mandariine maksis 3 eurot. Mitu kasti mandariine sai poiss osta?



84. Arvuta.

$15 : 3 = \dots\dots$

$12 : 3 = \dots\dots$

$9 : 3 = \dots\dots$

$3 : 3 = \dots\dots$

$6 : 3 = \dots\dots$

$24 : 3 = \dots\dots$

$21 : 3 = \dots\dots$

$27 : 3 = \dots\dots$

$30 : 3 = \dots\dots$

$18 : 3 = \dots\dots$

85. Lahenda ülesanne.

Raul tegi üheksa kuker-palli. Riho tegi kuker-palle kolm korda vähem.

Mitu kuker-palli tegi Riho?

Mitu kuker-palli tegid vennad kokku?



86. Lahenda ülesanne.

Toni luges esmas-päeval 30 lehe-külge raamatust. Reedel luges poiss kolm korda vähem. Mitu lehe-külge luges Toni reedel? Mitu lehe-külge luges poiss reedel vähem kui esmas-päeval?



87. Lahenda ülesanne.

Lauril kulus lume rookimiseks 27 minutit. Eval kulus lume lükkamiseks kolm korda vähem aega. Marit rookis lund kaks korda kauem kui Eva. Kui palju aega kulus lume lükkamiseks kummalgi tüdrukul?

