











284. Arvuta.

	$8 : 8 =$
	$16 : 8 =$
	$24 : 8 =$
	$32 : 8 =$
	$40 : 8 =$
	$48 : 8 =$
	$56 : 8 =$
	$64 : 8 =$
	$72 : 8 =$
	$80 : 8 =$

285. Võrdle (<, >, =).

$32 : 8 \dots 40 : 10$

$8 : 8 \dots 18 : 9$

$56 : 8 \dots 28 : 7$

$40 : 8 \dots 25 : 5$

$64 : 8 \dots 42 : 7$

$56 : 7 \dots 30 : 5$

$16 : 8 \dots 20 : 2$

$72 : 8 \dots 54 : 6$

$80 : 8 \dots 20 : 2$

$49 : 7 \dots 60 : 6$

$48 : 8 \dots 36 : 6$

$45 : 5 \dots 27 : 3$

$24 : 8 \dots 54 : 6$

$36 : 4 \dots 70 : 7$

$48 : 6 \dots 16 : 4$

286. Lahenda ülesanne.

Vee-keetja maksab 38 eurot, röster maksab 34 eurot. Köögi-kaal maksab 8 korda vähem kui vee-keetja ja röster kokku. Kui palju maksab köögi-kaal?



287. Lahenda ülesanded.

A Kirjuta arvu alla temast **8 korda suurem** arv.

4	2	7	1	5	10	8	3	6	9

B Kirjuta arvu alla temast **8 võrra suurem** arv.

4	2	7	1	5	10	8	3	6	9

288. Lahenda ülesanded.

A Kirjuta arvu alla temast **8 korda väiksem** arv.

24	8	40	16	32	64	72	48	80	56

B Kirjuta arvu alla temast **8 võrra väiksem** arv.


24	8	40	16	32	64	72	48	80	56

289. Täida tabel.

a	b	c	$a \cdot b$	$a + b$	$b : c$	$b - c$
8	7	7				
5	4	2				
6	8	4				
7	9	3				
8	5	1				
7	6	2				
3	8	2				
4	6	3				

290. Lahenda ülesanne.

Esimese klassi õpilastel on iga päev neli kooli-tundi. Seitsmenda klassi õpilaste nädala-koormus on 9 tunni võrra suurem. Mitu aine-tundi nädalas on 7. klassi õpilastel?





291. Lahenda ülesanne.

Lille-pood müüs naiste-päeval 80 asalead. Hüatsindi-potte müüdi 8 võrra vähem kui asaleasid. Orhideesid müüdi hüatsintidest 8 korda vähem. Mitu orhideed osteti lille-poest naiste-päeval?



292. Koosta joonise järgi kaks korrutamis-ülesannet ja kaks jagamis-ülesannet.



..... · = : =
 · = : =

..... · = : =
 · = : =

293. Marten-Siim kiirustas kodust ülesannet lahendades. Kontrolli, kas poiss arvutas õigesti. Vajadusel paranda vead.

$8 \cdot 9 = 72$

$6 \cdot 9 = 56$

$63 : 7 = 9$

$30 : 6 = 24$

$7 \cdot 6 = 49$

$5 \cdot 5 = 25$

$64 : 8 = 8$

$45 : 5 = 9$

$8 \cdot 3 = 24$

$7 \cdot 8 = 56$

$72 : 8 = 8$

$12 : 2 = 10$

$56 + 44 = 100$

$48 + 2 = 50$

$59 - 19 = 40$

$38 - 38 = 0$

$32 + 19 = 74$

$25 + 25 = 55$

$100 - 20 = 80$

$74 - 44 = 30$

$27 + 3 = 30$

$90 + 6 = 69$

$75 - 5 = 50$

$68 - 18 = 70$

294. Koosta avaldis. Arvuta.

1. Tegurid on 8 ja 8. Leia korrutis.

--	--	--	--	--	--	--	--	--	--

2. Jagatav on 72, jagaja on 8. Leia jagatis.

--	--	--	--	--	--	--	--	--	--

3. Liidetavad on 18 ja 81. Leia summa.

4. Vähendatav on 80, vähendaja on 8. Leia vahe.

5. Esimene tegur on 7, teine tegur on 9. Leia korrutis.

--	--	--	--	--	--	--	--	--	--

6. Jagatav on 63, jagaja on 7. Leia jagatis.

--	--	--	--	--	--	--	--	--	--