





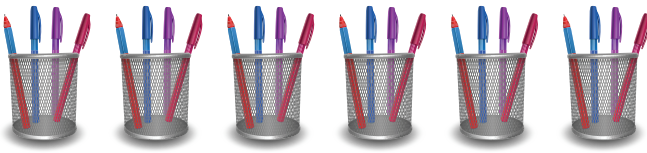





105. Ühenda sobivad avaldised pildiga. Arvuta.

4		$1 \cdot 4 =$
$4 + 4 + 4 + 4 =$		$2 \cdot 4 =$
$4 + 4 + 4 + 4 + 4 =$		$3 \cdot 4 =$
$4 + 4 + 4 =$		$4 \cdot 4 =$
$4 + 4 =$		$5 \cdot 4 =$
$4 + 4 + 4 +$ $4 + 4 + 4 =$		$6 \cdot 4 =$
$4 + 4 + 4 + 4 +$ $4 + 4 + 4 =$		$7 \cdot 4 =$
$4 + 4 + 4 + 4 + 4 +$ $4 + 4 + 4 =$		$8 \cdot 4 =$
$4 + 4 + 4 + 4 + 4 +$ $4 + 4 + 4 + 4 =$		$9 \cdot 4 =$
$4 + 4 + 4 + 4 + 4 +$ $4 + 4 + 4 + 4 + 4 =$		$10 \cdot 4 =$

106. Asenda võrdsete liidetavate liitmine korrutamisega.

$4 + 4 = \square \square \cdot \square \square = \square \square$

$4 + 4 + 4 = \square \square \cdot \square \square = \square \square$

$4 + 4 + 4 + 4 = \square \square \cdot \square \square = \square \square$

$4 + 4 + 4 + 4 + 4 + 4 + 4 = \square \square \cdot \square \square = \square \square$

$4 + 4 + 4 + 4 + 4 = \square \square \cdot \square \square = \square \square$

$4 + 4 + 4 + 4 + 4 + 4 + 4 + 4 = \square \square \cdot \square \square = \square \square$

$4 + 4 + 4 + 4 + 4 + 4 = \square \square \cdot \square \square = \square \square$

$4 + 4 + 4 + 4 + 4 + 4 + 4 + 4 + 4 + 4 = \square \square \cdot \square \square = \square \square$

$4 + 4 + 4 + 4 + 4 + 4 + 4 + 4 + 4 = \square \square \cdot \square \square = \square \square$

107. Lahenda ülesanded kahel viisil.



Liitmine

$4 + 4 + 4 + 4 + 4 + 4 + 4 = \square \square \square \square \square \square$

Korrutamine

$6 \cdot 4 = \square \square \square \square \square \square$





Liitmine

Korrutamine






Liitmine

Korrutamine



Liitmine

Korrutamine



Liitmine

Korrutamine

108. Asenda korrutamine võrdsete liidetavate liitmisega.

- $3 \cdot 4 =$
 $4 \cdot 4 =$
 $2 \cdot 4 =$
 $9 \cdot 4 =$
 $5 \cdot 4 =$
 $6 \cdot 4 =$
 $1 \cdot 4 =$
 $10 \cdot 4 =$
 $7 \cdot 4 =$
 $8 \cdot 4 =$


109. Lahenda ülesanded kahel viisil.



Korrutamine															
Liitmine															



Korrutamine															
Liitmine															




Korrutamine

--	--	--	--	--	--	--	--	--	--	--	--	--	--	--	--	--	--	--	--

Liitmine

--	--	--	--	--	--	--	--	--	--	--	--	--	--	--	--	--	--	--	--



Korrutamine

--	--	--	--	--	--	--	--	--	--	--	--	--	--	--	--	--	--	--	--

Liitmine

--	--	--	--	--	--	--	--	--	--	--	--	--	--	--	--	--	--	--	--




Korrutamine

--	--	--	--	--	--	--	--	--	--	--	--	--	--	--	--	--	--	--	--

Liitmine

--	--	--	--	--	--	--	--	--	--	--	--	--	--	--	--	--	--	--	--



Korrutamine

--	--	--	--	--	--	--	--	--	--	--	--	--	--	--	--	--	--	--	--

Liitmine

--	--	--	--	--	--	--	--	--	--	--	--	--	--	--	--	--	--	--	--

110. Võrdle (<, >, =).

$2 \cdot 4 \dots\dots 4 + 4$

$5 \cdot 4 \dots\dots 4 + 4 + 4 + 4 + 4 + 4 + 4 + 4$

$7 \cdot 4 \dots\dots 4 + 4 + 4 + 4$

$4 \cdot 4 \dots\dots 4 + 4 + 4 + 4$

$4 + 4 + 4 + 4 + 4 + 4 \dots\dots 9 \cdot 4$

$4 + 4 + 4 + 4 + 4 + 4 \dots\dots 8 \cdot 4$

$4 + 4 + 4 \dots\dots 3 \cdot 4$

$4 + 4 + 4 + 4 + 4 + 4 \dots\dots 6 \cdot 4$

111. Lahenda ülesanne.

Piia on 9-aastane. Isa on temast neli korda vanem. Kui vana on Piia isa? Kui vanad on isa ja tütar kokku?




112. Lahenda ülesanne.

Ühes kotis on 10 kg kartuleid. Mitu kilo-grammi kartuleid on neljas kotis kokku?













113. Lahenda ülesanne.

Riiulil on kuus purki marineeritud kurke. Maasika-moosi purke on neli korda rohkem. Mitu purki moosi on keldris? Mitu purki hoidiseid on riiulitel kokku?



114. Arvuta.

				
$4 \cdot 1 =$ $1 \cdot 4 =$	$4 \cdot 2 =$ $2 \cdot 4 =$	$4 \cdot 3 =$ $3 \cdot 4 =$	$4 \cdot 4 =$ $4 \cdot 4 =$	$4 \cdot 5 =$ $5 \cdot 4 =$

				
$4 \cdot 6 =$ $6 \cdot 4 =$	$4 \cdot 7 =$ $7 \cdot 4 =$	$4 \cdot 8 =$ $8 \cdot 4 =$	$4 \cdot 9 =$ $9 \cdot 4 =$	$4 \cdot 10 =$ $10 \cdot 4 =$

115. Täida tabel.

Tegur	4	4	4	4	4	4	4	4	4	4
Tegur	1	2	3	4	5	6	7	8	9	10
Korrutis										

116. Kirjuta ja tähista arvud, mis on saadud arvu 4 korrutamisel.

