

## 280. A Loe ja vasta küsimustele.

Lillepoodi toodi 40 nartsissi.

Müüja tegi neist kaheksa kimpu.

*Mitu lille toodi kauplusesse?*

.....

*Mitmeks võrdseks osaks jaotas müüja lilled?*


.....

*Mitu lille pani müüja igasse kimpu?*

.....



## B Lahenda ülesanne. Täienda vastust.




..... : ..... = .....

Igas kimbus oli ..... nartsissi.

## C Selgita, mis on jagamine.

Sama moodi saab tegutseda, kui kasutada erinevaid esemeid, näiteks värvi-pliiatseid.

## 281. Jaota võrdset.



$$16 : 8 = \dots\dots$$

---



$$8 : 8 = \dots\dots$$

---



$$32 : 8 = \dots\dots$$

---



$$24 : 8 = \dots\dots$$

---




$$40 : 8 = \dots\dots$$

---



$$80 : 8 = \dots\dots$$

---




$$56 : 8 = \dots\dots$$

---



$$48 : 8 = \dots\dots$$

---



$$72 : 8 = \dots\dots$$

---



$$64 : 8 = \dots\dots$$

---

### 282. Lahenda ülesanne.

Memm kuumutas 24 liitrit õuna-mahla. Sellest sai täis kaheksa purki. Mitme liitriline oli üks purk?













### 283. Lahenda ülesanne.

80 kg kartuleid jaotati võrdselt kaheksasse kotti. Kui palju kaalus üks kartuli-kott?



## 284. Arvuta.

	$8 : 8 =$
	$16 : 8 =$
	$24 : 8 =$
	$32 : 8 =$
	$40 : 8 =$
	$48 : 8 =$
	$56 : 8 =$
	$64 : 8 =$
	$72 : 8 =$
	$80 : 8 =$

## 285. Vördle (<, >, =).

$32 : 8 \dots 40 : 10$

$8 : 8 \dots 18 : 9$

$56 : 8 \dots 28 : 7$

$40 : 8 \dots 25 : 5$

$64 : 8 \dots 42 : 7$

$56 : 7 \dots 30 : 5$

$16 : 8 \dots 20 : 2$

$72 : 8 \dots 54 : 6$

$80 : 8 \dots 20 : 2$

$49 : 7 \dots 60 : 6$

$48 : 8 \dots 36 : 6$

$45 : 5 \dots 27 : 3$

$24 : 8 \dots 54 : 6$

$36 : 4 \dots 70 : 7$

$48 : 6 \dots 16 : 4$