

117. A Täida õpetaja-poolsed töö-korraldused.



Mul on 12 pliiatsit.

.....,,
..... ja,
palun tulge lassi ette.

Õpetaja jagab pliiatsid
laste vahel võrdselt.


Mitu pliiatsit sai iga laps?

B Vasta küsimustele.


1.	Mitu pliiatsit oli õpetajal?	
2.	Mitme õpilase vahel õpetaja pliiatsid jaotas?	
3.	Mitu pliiatsit sai iga õpilane?	
4.	Kuidas sa vastuse leidsid?	
5.	Kirjuta avaldis jagamis-märki kasutades. Arvuta.	
6.	Nimeta arv, mis on jagatavaks.	
7.	Nimeta arv, mis on jagajaks.	

Sama-moodi saab tegutseda, kui kasutada erinevaid esemeid, näiteks kastani-munasid.


118. Jaota võrdset.



$$24 : 4 = \dots\dots$$



$$36 : 4 = \dots\dots$$



$$40 : 4 = \dots\dots$$




$$4 : 4 = \dots\dots$$



$$16 : 4 = \dots\dots$$




$$8 : 4 = \dots\dots$$



$$28 : 4 = \dots\dots$$



$$12 : 4 = \dots\dots$$




$$20 : 4 = \dots\dots$$













$$32 : 4 = \dots\dots$$

119. Lahenda ülesanne.

Vanaema jaotas 36 õuna nelja kasti vahel võrdselt. Mitu õuna pani memm ühte kasti?



120. Arvuta.

	$4 : 4 =$
	$8 : 4 =$
	$12 : 4 =$
	$16 : 4 =$
	$20 : 4 =$
	$24 : 4 =$
	$28 : 4 =$
	$32 : 4 =$
	$36 : 4 =$
	$40 : 4 =$

121. Lahenda ülesanne.

Urmasel oli 40 eurot. Mitu 4-eurost lambi-pirni sai ta osta?



122. Lahenda ülesanne.

24 õpilasest moodustati neli võist-konda. Mitme-liikmeline oli iga võist-kond?



123. Arvuta.

$32 : 4 = \dots\dots$

$12 : 4 = \dots\dots$

$16 : 4 = \dots\dots$

$4 : 4 = \dots\dots$

$8 : 4 = \dots\dots$

$24 : 4 = \dots\dots$

$28 : 4 = \dots\dots$

$20 : 4 = \dots\dots$

$40 : 4 = \dots\dots$

$36 : 4 = \dots\dots$

124. Lahenda ülesanne.

Raamatus on 36 lehe-külge. Teelel kulus raamatu lugemiseks neli päeva. Iga päev luges tüdruk võrdse hulga lehe-külgi. Mitu lehe-külge luges Teele päevas? Mitu lehe-külge luges tüdruk kahe päevaga? Mitu lehe-külge luges Teele kolme päevaga?



125. Lahenda ülesanne.

Margel on 12 eurot. Janel on raha neli korda vähem. Mitu eurot on Janel? Kui palju on tüdrukutel raha kokku?

