

ARVURIDA 1–17

248. Loe arvu-rida.

1	2	3	4	5	6	7	8	9	10
11	12	13	14	15	16	17			

249. Kirjuta antud arvule järgnev arv.

1	2				8				1	6				1	1			
---	---	--	--	--	---	--	--	--	---	---	--	--	--	---	---	--	--	--


250. Kirjuta antud arvule eelnev arv.

		1	0			1	7				7				1	4
--	--	---	---	--	--	---	---	--	--	--	---	--	--	--	---	---

251. Kirjuta antud arvule eelnev ja järgnev arv.

○	16	○	○	10	○	○	13	○
---	----	---	---	----	---	---	----	---


252. Ühenda joonega arvu-rida.



253. Kirjuta puuduvad arvud. Loe arvu-rida.



○ ○ 11 ○ ○ 14 ○ ○ ○




○ ○ 12 ○ ○ ○ ○ ○



○ ○ ○ ○ 13 ○ ○ 16 ○

254. Leia mets-kitse tee (1–17) heina-kuhjani. Liigu (l, –).



		1	2	5	16	14	9
		3	4	7	15	10	8
1	3	12	5	11	12	13	14
2	3	4	13	10	12	16	15
6	5	5	4	9	15	17	14
11	7	6	7	8	17		

