

ARVURIDA 1–13

34. Loe arvu-rida.

1	2	3	4	5	6	7	8	9	10
11	12	13							

35. Kirjuta antud arvule järgnev arv.

10		9		12		4	
----	--	---	--	----	--	---	--

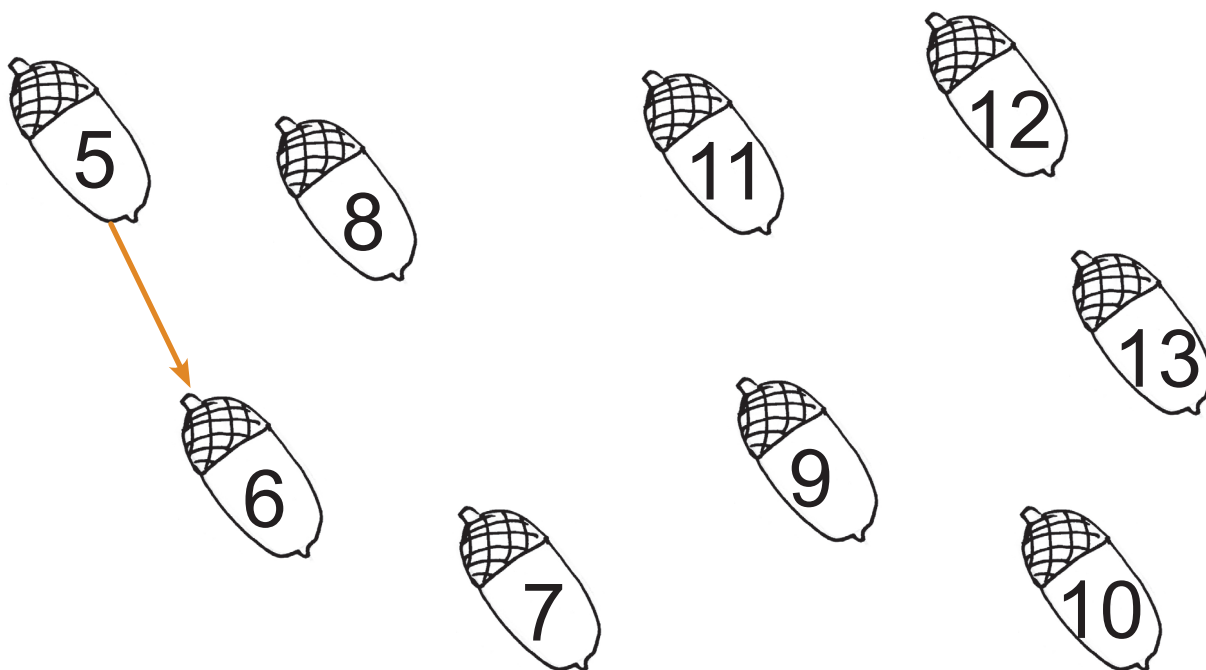
36. Kirjuta antud arvule eelnev arv.

	12		7		13		9
--	----	--	---	--	----	--	---

37. Kirjuta antud arvule eelnev ja järgnev arv.



38. Ühenda joonega arvu-rida.





39. Kirjuta puuduvad arvud.



10	11		
----	----	--	--



13		11	
----	--	----	--

40. Kirjuta peidetud arvud. Loe saadud arvu-rida.

5				9	10			
---	---	---	---	---	----	---	---	---

41. Liigu (|, –). Leia arvu-rida 1–13. Värv.

Mis puu lehti korjas Kristel?

	1	2	8	4	12	13	
2	3	3	4	8	12	13	
1	5	6	5	10	11	13	
10	8	7	8	9	13		

Kristel korjas lehti.
(kastani, vahtra, tamme)

42. Kirjuta puuduvad arvud.

