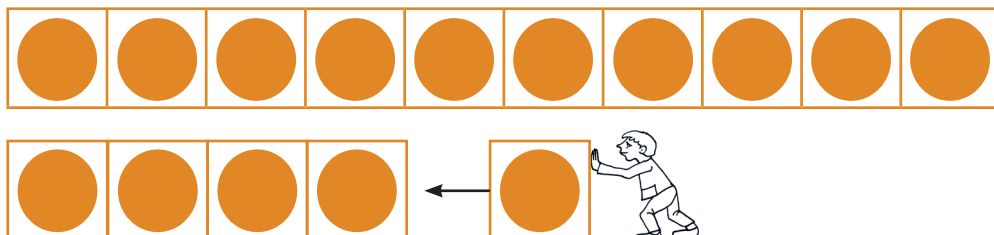

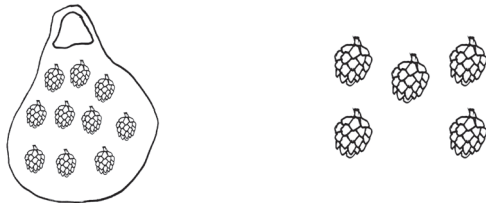
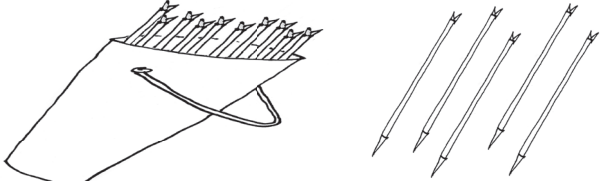
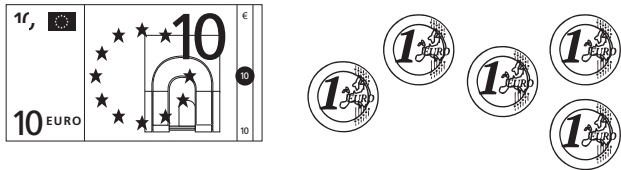


VIISTEIST

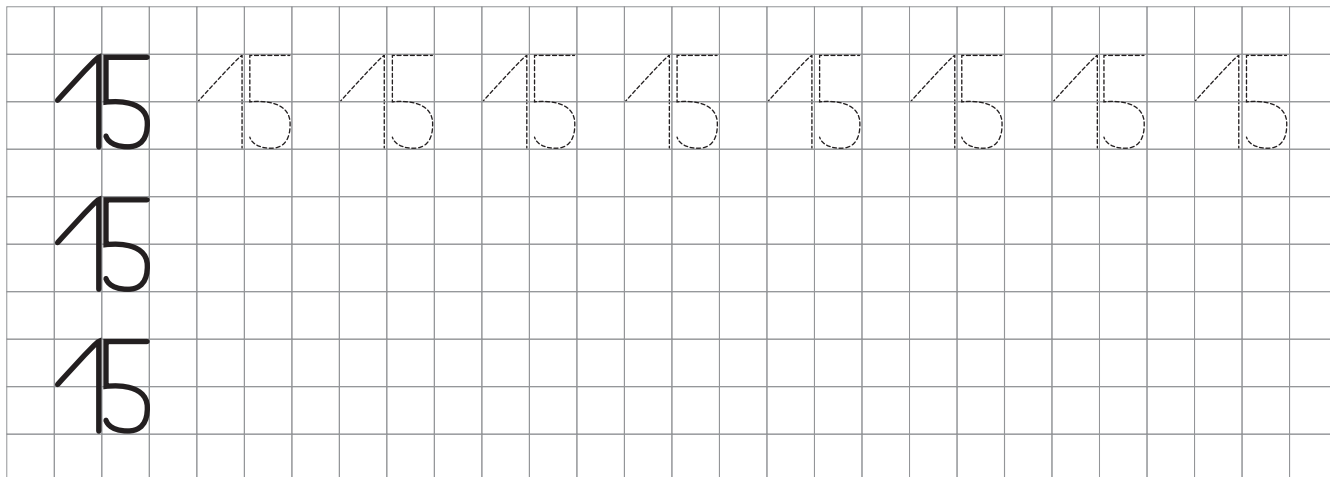
141. Vaata pilti. Räägi.



142. Vaata pilti. Täida lüngad.

 <p>10 ja 5</p> <p>1 kümneline ja 5 ühelist</p> <p>K Ü</p> <table border="1" data-bbox="414 1478 526 1590"> <tr> <td></td> <td></td> </tr> <tr> <td></td> <td></td> </tr> </table>					 <p>..... ja</p> <p>___ kümneline ja ___ ühelist</p> <p>K Ü</p> <table border="1" data-bbox="1101 1478 1212 1590"> <tr> <td></td> <td></td> </tr> <tr> <td></td> <td></td> </tr> </table>				
 <p>..... ja</p> <p>___ kümneline ja ___ ühelist</p> <p>K Ü</p> <table border="1" data-bbox="414 2016 526 2128"> <tr> <td></td> <td></td> </tr> <tr> <td></td> <td></td> </tr> </table>					 <p>..... ja</p> <p>___ kümneline ja ___ ühelist</p> <p>K Ü</p> <table border="1" data-bbox="1101 2016 1212 2128"> <tr> <td></td> <td></td> </tr> <tr> <td></td> <td></td> </tr> </table>				


143. Jätka rida.



144. Leia ja piira arv viis-teist joonega.

11 15 5
51 55
13 15 12 15

145. Loenda. Värvi 15 käbi.



Mitu käbi on värvitud?

Värvimata jäi

käbi.

146. Mis arv on peidus? Kirjuta.

4		6	7	8	9		11	12	13	14	
---	---	---	---	---	---	---	----	----	----	----	---

	
---	--

	
---	--

	
---	--

147. Loenda. Kirjuta üle õige arv.

