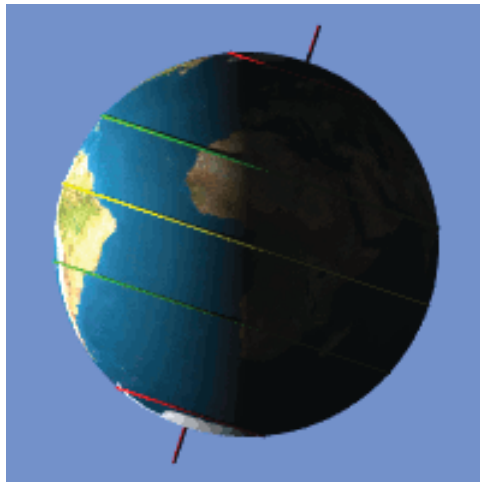



# 1.1. MANDRID. MAAILMAJAOD



 **Vaata digiõpikust animatsiooni**  
pöörlevast maakerast

## Mandrid

Maakera pindala on 510 miljonit ruutkilomeetrit. Sellest on maismaad umbes 29% ja ülejäänud 71% on maailmameri.

Suur maismaa osa, mida igast küljest ümbritseb maailmameri, on **manner** ehk kontinent.

Maailmas on kuus mandrit: Aafrika, Antarktis, Austraalia, Euraasia, Lõuna-Ameerika ja Põhja-Ameerika.

## Maailmajaod

Mandrid või nende osad koos ümbritsevate saartega moodustavad **maailmajaod**. Maailmajagused on samuti kuus.

 **Tuleta meelde 8. klassi loodusõpetuses õpitut.**

## Mandrid ja maailmajaod

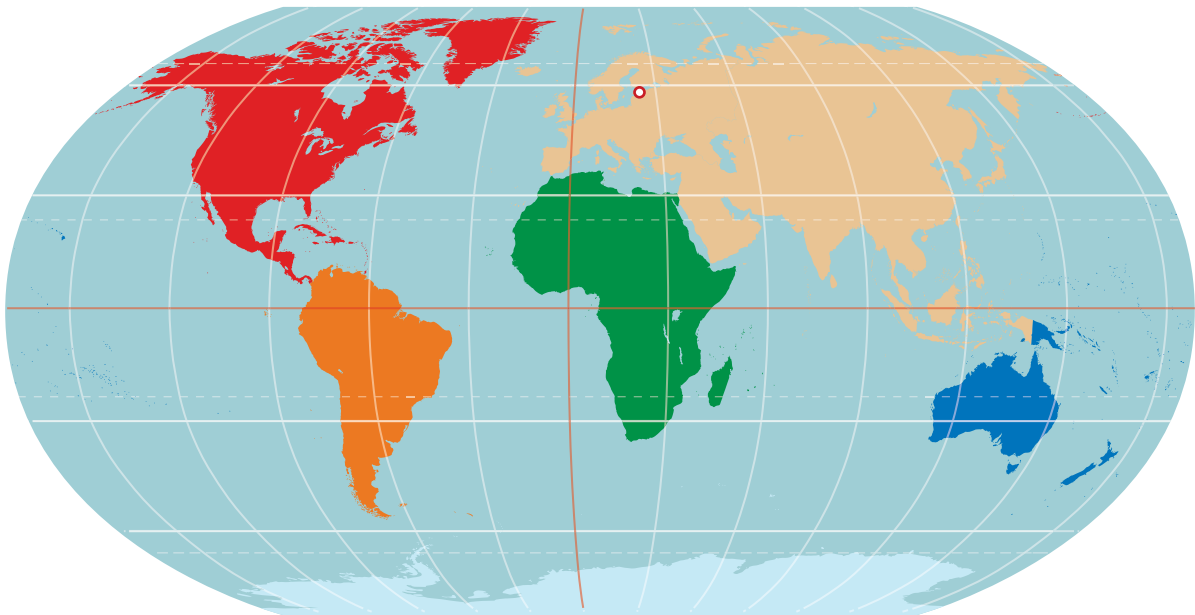
Manner	Maailma- jagu	Pindala (miljonit km <sup>2</sup> )	Elanike arv	Riikide arv
Aafrika		29 200 000 29,2 miljonit km <sup>2</sup>	≈ 1 200 000 000 ≈ 1,2 miljardit	54
	Aafrika	30,3	≈ 1,2 miljardit	55
Antarktis		14	0	0
	Antarktika	60	0	0
Austraalia		7,7	25 miljonit	1
	Austraalia ja Okeania	8,5	40 miljonit	14
Euraasia		54	5,2 miljardit	99
	Euroopa	10,2	≈ 740 miljonit	51
	Aasia	44,6	4,5 miljardit	48
Põhja- Ameerika		21,5	579 miljonit	23
Lõuna- Ameerika		≈ 18	422,5 miljonit	12
	Ameerika	42,5	1 miljard	35

## ÜLESANNE 1

Värvi tabelis roheliseks mandrid ja nende andmed.

## ÜLESANNE 2

- 1. Leia ja näita mandrid gloobuselt.**  
Iseloomusta mandrite asendit poolkerade suhtes.  
Millistel poolkeradel asub Euraasia manner,  
millistel poolkeradel asub Austraalia manner?
- 2. Leia mandrid ja märgi kaardile.**  
Aafrika, Antarktis, Austraalia, Euraasia,  
Lõuna-Ameerika, Põhja-Ameerika



- 3. Mis mandril asub Eesti? .....**

### ÜLESANNE 3

**1. Leia ja näita maailmajaod gloobuselt.**

**2. Leia maailmajaod ja märgi kaardile.**

Aafrika, Aasia, Ameerika, Antarktika, Austraalia ja Okeania,  
Euroopa

**3. Mis maailmajaos asub Eesti? .....**  
**Tähista Eesti asukoht kaardil.**

