

8.5. VALITUD RIIGI RAHVASTIKU PAIKNEMINE

Enne reisile minekut peaks teadma ka seda, kes selles riigis elavad. Kas on tegemist rohkem linna- või maaelanikega? Millises riigi osas ja miks elab rohkem, millises vähem inimesi jm rahvastiku paiknemisega seonduvat.

! Õppisid rahvastikuga seonduvat peatükis 4, rahvastiku paiknemist peatükis 4.5.

Inimesed elavad väga ebaühtlaselt.

Eluks sobivates kohtades elab palju inimesi. Seal on asustus tihe. Inimesed elavad enamasti seal, kus kliima on parajalt soe ja niiske, leidub piisavalt magedat vett ning tasast ja viljakat maa-ala põllu harimiseks.

Euroopa on maailmajagudest kõige tihedamalt asustatud. Euroopas elab linnades rohkem inimesi kui maal.



Prantsusmaa pealinnas Pariisis elab ühel ruutkilomeetril üle 20 000 inimese.

ÜLESANNE 1

Vaatle Euroopa rahvastiku tiheduse kaarti.
Leia vastused küsimustele.

1. Kas rahvastik paikneb Euroopas

ühtlaselt või ebaühtlaselt?

2. Mis riikides elab vähe inimesi?

.....

3. Hõredalt asustatud piirkondades on rahvastiku

keskmise tihedus in/km².

4. Mis riikides elab palju inimesi?

.....

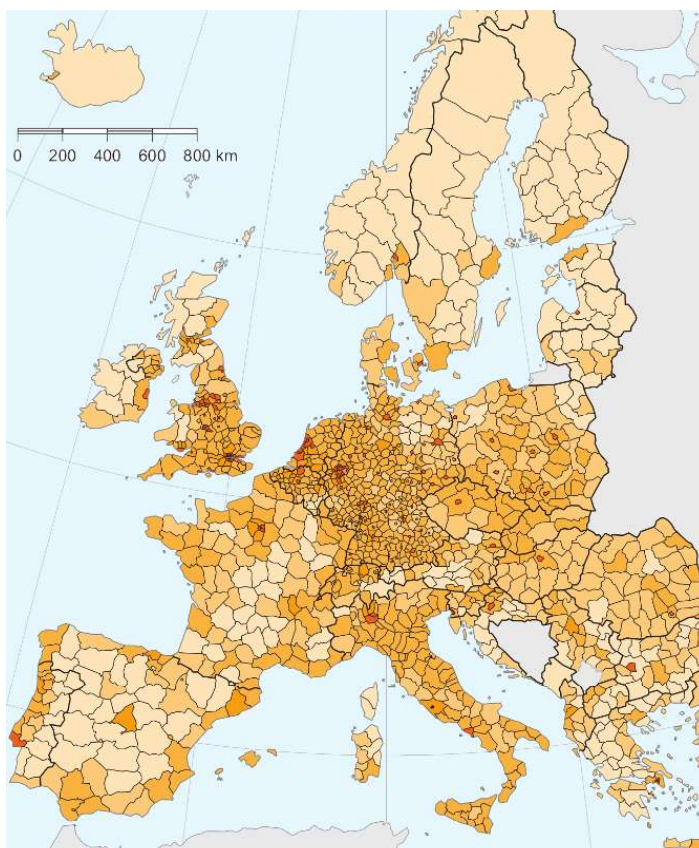
5. Tihedalt asustatud piirkondades on rahvastiku keskmine tihedus

..... in/km².

Arutage koos õpetajaga

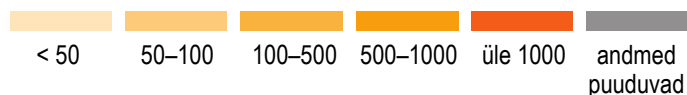
1) miks elab küsimuses 2 nimetatud kohtades vähe inimesi?

2) miks elab küsimuses 4 nimetatud kohtades palju inimesi?



Rahvastiku tihedus Euroopas

inimesi ruutkilomeetril

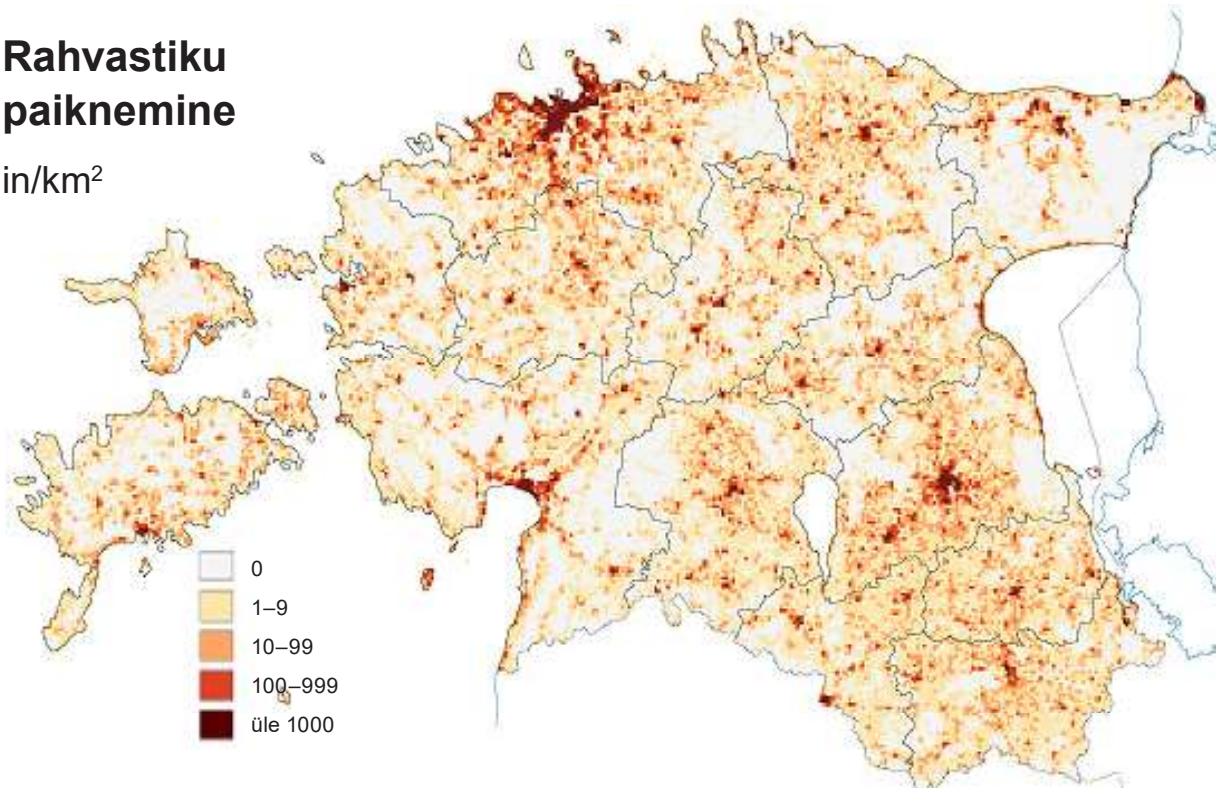


ÜLESANNE 2

Vaatle Eesti rahvastiku tiheduse kaarti. Lõpeta laused.

Rahvastiku paiknemine

in/km²



1. Rahvastik paikneb **ühtlaselt** | **ebaühtlaselt**.
2. Rahvastiku keskmine tihedus on Eestis in/km².
3. Kõige tihedamini asustatud piirkonnad on

.....

Seal on tihe asustus, sest need kohad asuvad

4. Kõige hõredamini on asustatud

.....

Seal on hõre asustus, sest need kohad asuvad

ÜLESANNE 3

Iseloomusta oma valitud riigi rahvastiku paiknemist kaartide ja interneti abil.



Euroopa riikide rahvastiku tiheduse leiad internetist:

indexmundi.com/map/?v=21000&r=eu&l=en

..... riigi rahvastiku paiknemine

1. Rahvastik paikneb **ühtlaselt** | **ebaühtlaselt**.
2. Rahvastiku keskmine tihedus on in/km².
3. Kõige tihedamini on asustatud riigi osa/osad.

Rahvastiku tihedus on selles piirkonnas in/km².

Seal on tihe asustus, sest need kohad asuvad

4. Kõige hõredamini on asustatud riigi osa/osad.

Rahvastiku tihedus on selles piirkonnas in/km².

Seal on hõre asustus, sest need kohad asuvad

5. Linnades elab% rahvastikust.

ÜLESANNE 4

Turistide arv eri kohtades on väga erinev.



Loe selle kohta artiklit ja uuri tabelit internetist:

trip.ee/uudised/maailma-suurima-turistide-tihedusega-paigad

Lõpeta tabeli põhjal laused Euroopa kohta.

Nimeta kolm piirkonda.

- 1.** Kõige rohkem turiste külastab aasta jooksul Euroopas alljärgnevaid kohti:

.....
..... (sinu valitud riiki) külastab turisti.

(Kui andmeid ei ole, jäta vastamata.)

- 2.** Päevas külastab kõige rohkem turiste

.....
..... (sinu valitud riiki) külastab turisti.

- 3.** Kõige rohkem turiste ühe pindalaühiku kohta on

.....
..... (sinu valitud riigis) on
ühe pindalaühiku kohta turisti.

Arutlege tulemusi koos õpetajaga.

Miks on küsimuste vastused erinevad?



Jätka oma esitlust.

Lisa leitud andmed oma esitlusse.

Teema lõpuks on valmis järgmine slaid:

7) Rahvastiku paiknemine

- rahvastiku keskmine tihedus
- tihedamini asustatud piirkonnad
- hõredamini asustatud piirkonnad
- linnarahvastiku osatähtsus
- turistide hulk aastas/päevas

Ära unusta lisada pilte ja kaarte. Lisa kindlasti igale pildile ja kaardile juurde internetiaadress, kust need leidsid.

Salvesta töö oma kausta.



Turistide üks lemmikpaiku Prantsusmaal on Pariisi Eiffeli torn.



Turistide üks lemmikpaiku Itaalias on Milano toomkirik.