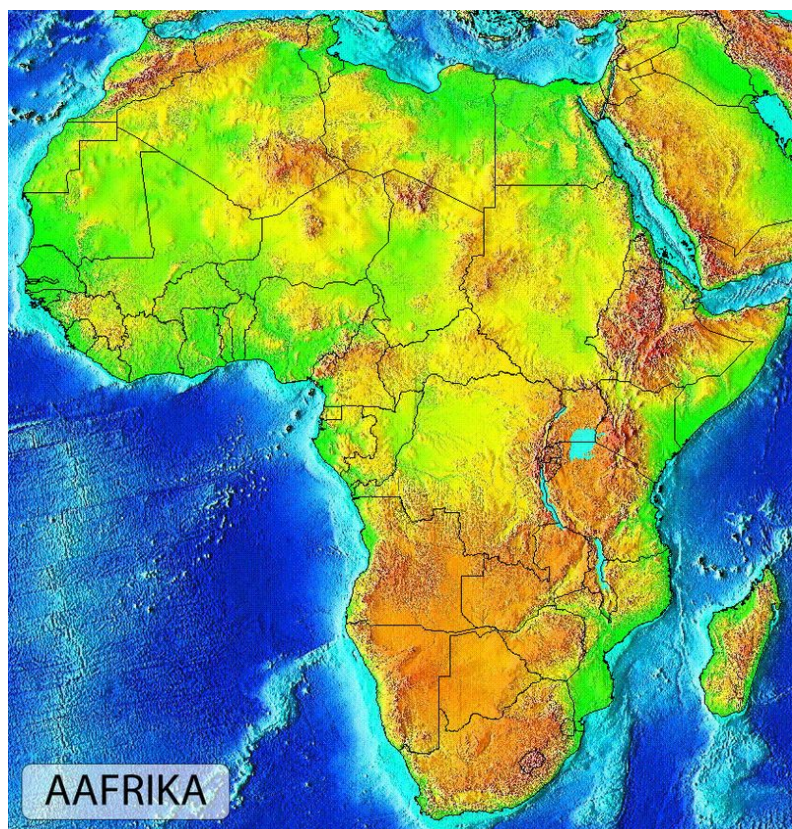


## 1.2. Aafrika



### Ülesanne 1.

Tutvu Aafrikaga video vahendusel: <https://vimeo.com/74863176>

Nimeta viis looma, keda nägid: .....

Aafrika asub ümber ekvaatori.

Aafrika piirid on:

- põhjas Gibraltari väin ja Vahemeri
- idas Suessi kanal, Punane meri ja India ookean
- läänes Atlandi ookean ja Guinea laht
- lõunas kulgeb piir Atlandi ja India ookeani vahel piki Aafrika mandri lõunatippu läbivat meridiaani kuni Antarktise rannikuni.

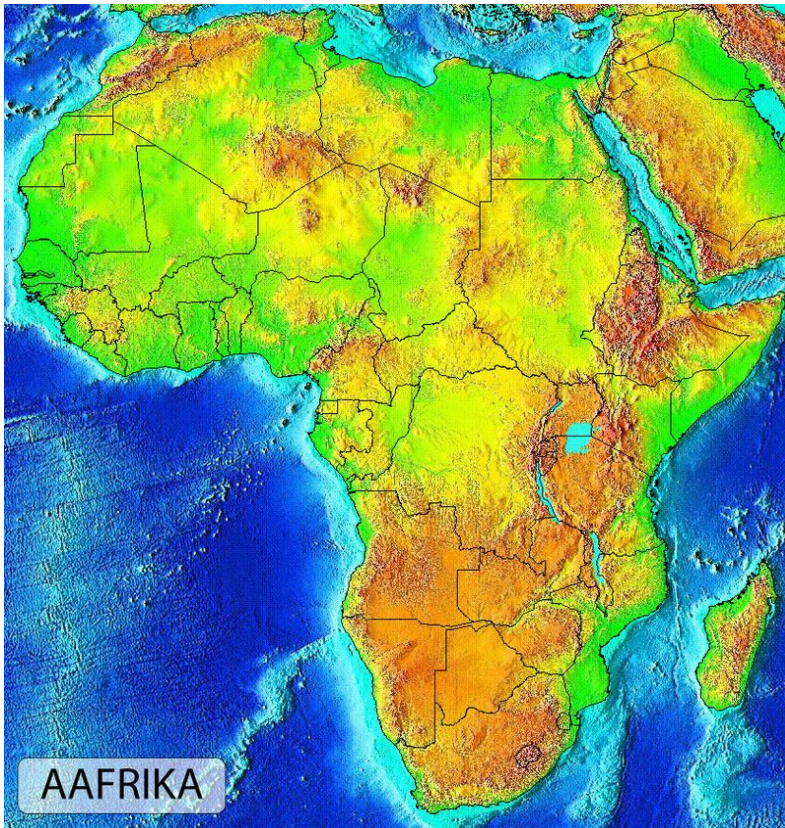
### Ülesanne 2.

1) Leia Aafrika gloobuselt.

2) Millistel poolkeradel asub Aafrika?

3) Leia Aafrika kaardilt. Leia Aafrika piirid.

4) Märki Aafrika kaardile nimetused:



Aafrika, Atlandi ookean, Guinea laht, Gibraltari väin, Vahemeri, Suessi kanal, Punane meri, India ookean

Punane meri ja Vahemeri on omavahel ühendatud kanaliga. Kanal on inimeste rajatud veekogu, mis ühendab kahte veekogu omavahel. Nii saadakse ühest veekogust teise sõita laevaga palju lühemat veeteed kaudu.

### Ülesanne 3.

Leia kaardilt Suessi kanal. Uuri internetist Suessi kanali kohta. Täida lüngad.

- 1) Suessi kanal asub .....
- 2) Miks rajati kanal? .....
- 3) Suessi kanal valmis ..... aastal.
- 4) Suessi kanal ühendab .....
- 5) Suessi kanal eraldab .....
- 6) Suessi kanal kuulub (*mis riigile?*) .....
- 7) Suessi kanali pikkus on ..... km.
- 8) Suessi kanali keskmine sügavus on ..... m.
- 9) Suessi kanali läbimine võtab aega (*kui kaua?*) ..... tundi.

Oma pindalalt on Aafrika manner teisel kohal Euraasia järel.

*Leia peatükist 1.1. tabelist Aafrika mandri pindala.*

Ekvaator läbib Aafrikat peaaegu keskelt. Seega on Aafrika kõige kuumem manner.

Ekvaatori ümbruses on aasta keskmised õhutemperatuurid

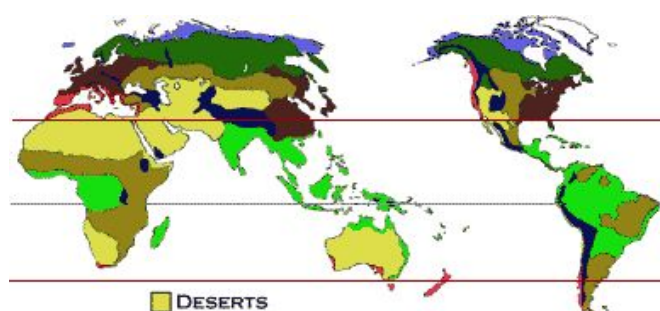
ligi 30 kraadi. Sahara kõrbes on õhusooja mõõdetud üle 50 kraadi.

Aafrika loodus on mitmekesine ja väga erinev Eesti loodusest.

#### **Ülesanne 4.**

**Vaata loodusvööndite kaarti.**

**Leia loodusvööndid, kus asub Aafrika. Märki sobivad.**



jäävöönd

tundra

parasvöötme okasmets

parasvöötme sega- ja lehtmets

rohtla

vahemereline mets ja põõsastik

kõrb

savann

ekvatoriaalne vihmamets

kõrgusvööndilisus

**Arutlege klassis koos õpetajaga:**

- 1) Mis taimed kasvavad vihmametsas/ savannis/ kõrbes?
- 2) Mis loomad elavad vihmametsas/ savannis/ kõrbes?
- 3) Millega tegelevad inimesed vihmametsas/ savannis/ kõrbes?

Aafrika manner koos tema juurde kuuluvate saartega moodustab Aafrika maailmajao.

## Ülesanne 5.

Täida mõistekaart Aafrika kohta. Leia vastused tekstist, kaartidelt, internetist.

Tuleta meelde 8.klassi loodusõpetuses õpitut.

